


Fracciones Equivalentes

Representar la fracción con un rectángulo (diagrama)



Dibuja una línea para separar igualmente el rectángulo




$\frac{1}{3}$

=

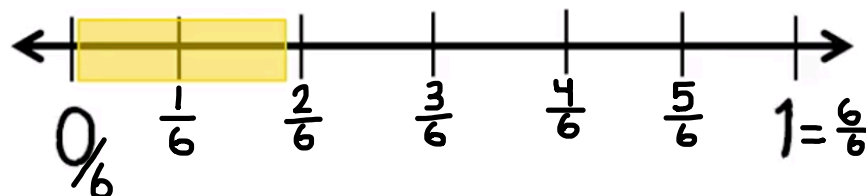
$\frac{2}{6}$

Usando recta numérica

$\frac{1}{3}$



$\frac{2}{6}$



Si son equivalente porque la parte sombreada es la misma y el punto en la recta numérica también